

ISTITUTO COMPRENSIVO DI CASALBUTTANO

A.S. 2018/2019

VERIFICHE FINE SECONDO QUADRIMESTRE

MATEMATICA

CLASSE 2[^]

COMPETENZE

- Conoscere e rappresentare i numeri naturali entro il 100.
- Eseguire le operazioni di addizione, sottrazione, moltiplicazione e divisione.
- Risolvere problemi.

ISTITUTO COMPRENSIVO DI CASALBUTTANO

VERIFICA FINALE DI MATEMATICA
CLASSE SECONDA

ALUNNO.....

DATA.....

NUMERI

1. DETTATO:

.....
.....

2. SCRIVI IL NUMERO SUCCESSIVO:

11	66 ...
25	79 ...
36 ...	80 ...
42 ...	91 ...
53 ...	99 ...

3. SCRIVI IL NUMERO PRECEDENTE:

... 15	... 65
... 20	... 33
... 47	... 79
... 56	... 86
... 100	... 92

4. METTI IL SIMBOLO <, >, =

32 56	52 ... 12	11 21	63 ... 63	100 ... 99
88 ... 96	25 ... 19	32 ... 32	17 ... 71	13 ... 45

5. METTI IN ORDINE CRESCENTE I SEGUENTI NUMERI:

36 - 69 - 17 - 2 - 20 - 13 - 11 - 9 - 88 - 100

.....
.....

6. METTI IN ORDINE DECRESCENTE I SEGUENTI NUMERI:

40 - 26 - 8 - 12 - 15 - 78 - 99 - 54 - 36 - 0

.....
.....

7. SCOMPONI IN da E u I SEGUENTI NUMERI:

6	100
14	78
40	39
59	22
11	26

8. SCRIVI I NUMERI FORMATI DA:

4 da e 0 u	1 da e 6 u
5 da	8 u
10 da	25 u e 7 da
30 u e 1 da	1 h 0 da e 0 u
8 da e 1 u	3 u e 5 da

9. CERCHIA IN ROSSO LE da:

1 0 2 - 2 5 - 4 8 - 8 9 - 2 - 1 0 - 3 3 - 9 - 1 3 - 7 4

10. CERCHIA IN BLU LE u:

9 9 - 5 2 - 8 4 - 5 - 6 1 - 4 3 - 7 0 - 3 2 - 4 7 - 1 0 0

11. CERCHIA IN ROSSO LE da E IN VERDE LE h:

3 - 9 3 - 6 2 - 1 0 0 - 7 6 - 1 7 - 4 0 - 3 9 - 5 6 - 1 2 2

12. SCRIVI I SEGUENTI NUMERI IN LETTERE O IN CIFFRE:

Novantasette	79
Ventotto	82
Tredici	31
Cinquanta	100
Sessantasei	25

OPERAZIONI

13. ESEGUI LE SEGUENTI ADDIZIONI IN COLONNA:

$40 + 17 = \dots\dots\dots$

$53 + 41 = \dots\dots\dots$

$76 + 15 = \dots\dots\dots$

$68 + 9 = \dots\dots\dots$

14. ESEGUI LE SEGUENTI SOTTRAZIONI IN COLONNA:

$96 - 75 = \dots\dots\dots$

$55 - 42 = \dots\dots\dots$

$76 - 29 = \dots\dots\dots$

$81 - 74 = \dots\dots\dots$

15. ESEGUI IN COLONNA LE SEGUENTI MOLTIPLICAZIONI:

$23 \times 8 = \dots\dots\dots$

$41 \times 9 = \dots\dots\dots$

$12 \times 7 = \dots\dots\dots$

$16 \times 6 = \dots\dots\dots$

ESEGUI LE SEGUENTI DIVISIONI

$12 : 5 =$

$36 : 6 =$


$63 : 7 =$

$54 : 9 =$

GIOCHI IN CITTÀ

Spettacolo di burattini nel giardino comunale! C'è posto per 90 bambini e 76 posti sono già occupati. Quanti sono i posti ancora liberi?


Operazione			



Risposta:

Sara e Vanni si divertono a raccogliere sassolini nel vialetto: ne hanno presi 36 bianchi, 27 scuri e 18 rossicci. Quanti sassolini hanno raccolto in tutto?


Operazione			



Risposta:

Per fare una partita, 5 amici mettono insieme le loro biglie. Ogni bambino ne ha 12. Con quante biglie possono giocare?

Operazione			



Risposta:

CRITERI DI VALUTAZIONE : 1 PUNTO AD OGNI ITEM

PERCENTUALI:

NUMERO RISPOSTE CORRETTE	VALUTAZIONE IN DECIMI
171 / 187	10
152 / 170	9
133 / 151	8
114 / 132	7
95 / 113	6
0 / 94	5